

nama:

kelas:

Say To Basmallah :)

1. Sebuah lingkungan terdiri atas bagian \_\_\_\_\_ dan \_\_\_\_\_
2. Bagian yang hidup di sebuah lingkungan terdiri atas \_\_\_\_\_  
\_\_\_\_\_
3. ekosistem adalah interaksi yang terjadi di sebuah lingkungan tertentu yang terjadi antara \_\_\_\_\_
  - a. karnivora dan Herbivora
  - b. makhluk hidup dan benda mati
  - c. pemangsa dan tumbuhan
  - d. Makhluk Hidup dan Pepohonan
4. semua makhluk hidup memerlukan lingkungan tertentu untuk bisa bertahan dan memenuhi kebutuhannya. lingkungan yang berupa benda mati dinamakan \_\_\_\_\_
  - a. Abiotik
  - b. Biotik
  - c. Atmosfer
  - d. Biosfer
5. Kumpulan dari beberapa individu sejenis yang menempati suatu lingkungan tertentu dinamakan \_\_\_\_\_

6.



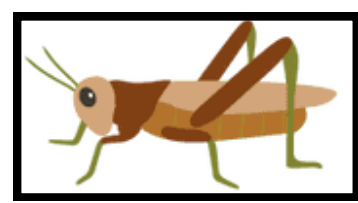
Uraikan peran makhluk hidup pada setiap tingkatan, mula dari produsen sampai pengurai ! \_\_\_\_\_  
\_\_\_\_\_  
\_\_\_\_\_  
\_\_\_\_\_



7. berilah tanda centang (v) pada kolom yang sesuai dan tanda ( x) untuk pernyataan yang tidak sesuai !

| Pernyataan   | Benar | Salah   |
|--|-------|---|
| Komponen Penyusun Ekosistem adalah Produsen, Konsumen dan Pengurai   |       |   |
|  Kumpulan ikan nemo Termasuk Jenis Individu |       |   |
| Peran rumput pada ekosistem hutan adalah sebagai produsen  |       |   |
| Hewan yang memakan daging dinamakan karnivora  |       |  |
| Makhluk hidup yang menduduki tingkat Tertinggi disebut konsumen puncak   |       |   |

8. Hubungkan gambar tersebut sesuai dengan tingkatan rantai makanan !



● **Konsumen I**

● **Konsumen II**

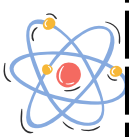

● **Pengurai**





## 9. Mengidentifikasi rantai makanan di sekitarmu !

- coba amati lingkungan di sekitarmu ! adakah proses makan dan dimakan di lingkungan sekitarmu yang dapat disusun menjadi rantai makanan
- coba buatlah maket rantai makanan yang kamu temui pada kolom dibawah ini !



- berikan penjelasan mengenai rantai makanan yang sudah kalian buat di lingkungan sekitarmu !

---

---

---

---

---

---

---

---

